






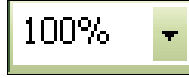


**A. Pilihlah salah satu jawaban yang paling tepat (A, B, C atau D)!**

1. Yang termasuk alat input pada komputer adalah ...
  - a. disket
  - b. speaker
  - c. keyboard
  - d. monitor
2. Di bawah ini yang merupakan Operating System pada komputer adalah ...
  - a. Microsoft Word
  - b. Microsoft Excel
  - c. Microsoft Windows
  - d. Microsoft Powerpoint
3. Pada dasarnya, komputer terdiri atas perangkat-perangkat di bawah ini, kecuali ...
  - a. hardware
  - b. software
  - c. mainware
  - d. Brainware
4. Yang tidak termasuk dalam perangkat dasar komputer adalah ...
  - a. perangkat masukan
  - b. perangkat penyimpanan
  - c. perangkat keluaran
  - d. perangkat informasi
5. Secara garis besar peran TIK adalah ...
  - a. kemudahan dalam penyampaian informasi
  - b. pengolahan informasi yang lebih akurat
  - c. penyimpanan informasi lebih aman
  - d. semua jawaban benar
6. Istilah-istilah dalam kejahatan di internet, kecuali ...
  - a. hacker
  - b. cracker
  - c. hipster
  - d. carder
7. Secara garis besar, perangkat keras (*hardware*), terbagi dalam 4 kelompok, yaitu...
  - a. input devices, processing, voltage, output devices
  - b. input devices, processing, omega, output devices
  - c. input devices, processing, storage, output devices
  - d. input devices, processing, object, output devices
8. Program aplikasi multimedia yang digunakan untuk memutar file MP3 adalah ...
  - a. adobe photoshop
  - b. adobe pagemaker
  - c. winamp
  - d. corel draw
9. Di bawah ini beberapa program aplikasi perangkat lunak, kecuali ...
  - a. power supply
  - b. adobe photoshop
  - c. corel draw
  - d. microsoft office
10. Bagian yang digunakan sebagai alat bantu dalam mengukur margin, tabulasi, dan paragraf adalah ...
  - a. ruler
  - b. title bar
  - c. scroll bar
  - d. status bar

11. Bagian yang memuat sekumpulan ikon yang berisi perintah-perintah Microsoft Word disebut ...  
a. toolbar  
b. scroll bar  
c. status bar  
d. title bar
12. Untuk menyimpan dokumen, kita dapat memilih perintah ...  
a. Save  
b. Copy  
c. Paste  
d. Open
13. Jika ingin membuat dokumen baru, kita dapat memilih perintah ...  
a. Cut  
b. Print  
c. New  
d. Undo
14. Ikon **Bold** berfungsi untuk ...  
a. menghapus teks  
b. menyalin teks  
c. menebalkan huruf  
d. menutup dokumen
15. Ikon yang berfungsi untuk meratakan teks ke bagian kanan adalah ...  
a. left align  
b. center  
c. right align  
d. justify
16. Untuk mengganti ukuran huruf dari 10 menjadi 12, dapat menggunakan perintah ...  
a. font  
b. font size  
c. italic  
d. underline
17. Untuk mengurutkan data dari besar ke kecil, dilambangkan dengan ikon ...  
a.   
b.   
c.   
d. 
18. Untuk melakukan penghitungan secara otomatis, dilambangkan dengan ikon ...  
a.   
b.   
c.   
d. 
19. Untuk menambahkan angka desimal, dapat menggunakan perintah ...  
a. increase indent  
b. decrease indent  
c. increase decimal  
d. decrease decimal
20. Penggunaan rumus atau formula selalu diawali dengan tanda ...  
a. -  
b. <  
c. =  
d. ?



33. Model koneksi jaringan yang mempunyai kemampuan yang sama dalam memberikan layanan maupun meminta layanan dinamakan ...
- a. client
  - b. peer to peer
  - c. server
  - d. peer
34. Topologi jaringan terbagi ke dalam ... jenis
- a. 1
  - b. 3
  - c. 2
  - d. 4
35. Kapanjangan dari WWW adalah ...
- a. World Web Wide
  - b. World Wide Web
  - c. Wide World Web
  - d. Wide Web World
36. Fasilitas yang digunakan untuk mencari informasi di internet dengan cara mengetikkan kata kunci (*keyword*) adalah ...
- a. search engine
  - b. e-mail
  - c. mailing list
  - d. TCP/IP
37. Fasilitas yang digunakan untuk mengirim dan menerima surat melalui internet adalah ...
- a. e-mail
  - b. IRC
  - c. TCP/IP
  - d. browsing
38. IRC adalah fasilitas di internet yang digunakan untuk ...
- a. download
  - b. upload
  - c. chatting
  - d. e-mail
39. Situs search engine yang paling populer adalah ...
- a. altavista
  - b. alltheweb
  - c. google
  - d. yahoo
40. Kita dapat berkomunikasi dan bertatap muka secara langsung dengan menggunakan internet melalui fasilitas ...
- a. chatting
  - b. email
  - c. video conference
  - d. phone call
41. Kejahatan yang dilakukan didunia maya disebut ...
- a. crawler
  - b. cow
  - c. crowded
  - d. cybercrime
42. Salah satu contoh web browser adalah ...
- a. opera
  - b. wisenut
  - c. alltheweb
  - d. altavista
43. Salah satu fasilitas yang dimiliki google.com adalah ...
- a. memiliki safe search
  - b. memiliki page filter
  - c. memiliki wise watch
  - d. memiliki safe filter

44. Komponen utama dari komputer adalah processor. Salah satu bagian dari processor yang berfungsi untuk melakukan proses perhitungan matematika adalah....
- a. RAM (Random Access Memory)
  - b. ROM (Read Only Memory)
  - c. ALU (Aritmatic Logical Unit)
  - d. CU (Control Unit)
45. Fasilitas untuk forum diskusi di internet disebut ...
- a. chatting
  - b. upload
  - c. e-mailing list
  - d. mailing list

**B. Jawablah pertanyaan-pertanyaan berikut dengan singkat dan jelas!**

46. Sebutkan 3 perangkat keluaran (*output devices*) komputer!
47. Jelaskan apa saja yang tidak boleh dilakkan di Sosial Media ....
48. Sebutkan macam-macam topologi jaringan komputer!
49. Sebutkan 3 contoh web browser!
50. Apakah yang dimaksud dengan *multimedia*? Jelaskan!